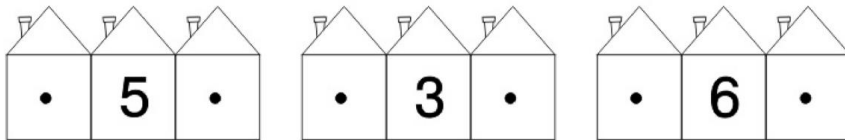
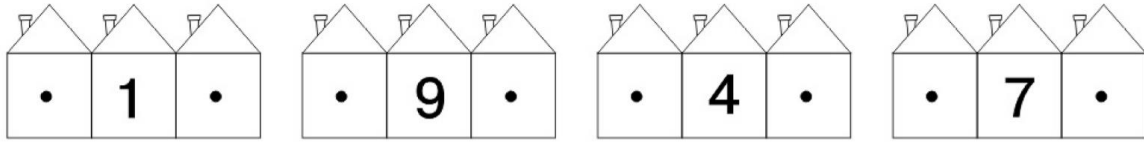



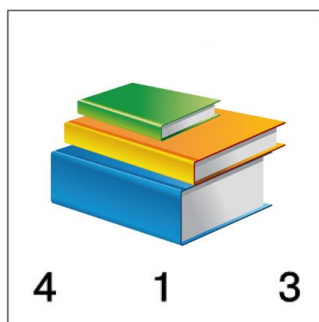
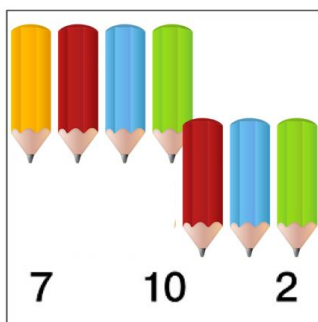

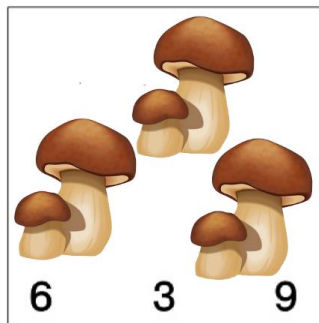

Впиши в домиках соседей чисел, расположенных в средних домиках. Найди их среди чисел, изображенных в центре.

детский
ЧуаЮдо
портал



Обведи число, которое соответствует количеству предметов на картинках.

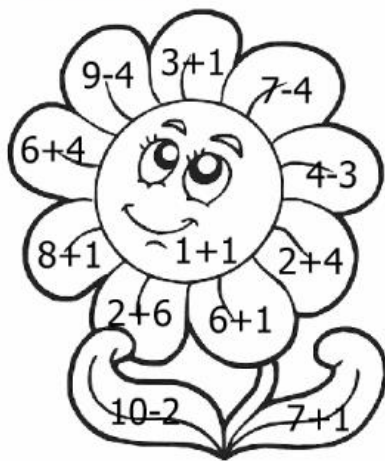
детский
ЧуаЮдо
портал




Реши примеры и раскрась цветочки в нужные цвета.

детский ЧудоЮдо портал

детский ЧудоЮдо портал



- | | | | |
|----|--|-----|--|
| 1- | | 6- | |
| 2- | | 7- | |
| 3- | | 8- | |
| 4- | | 9- | |
| 5- | | 10- | |

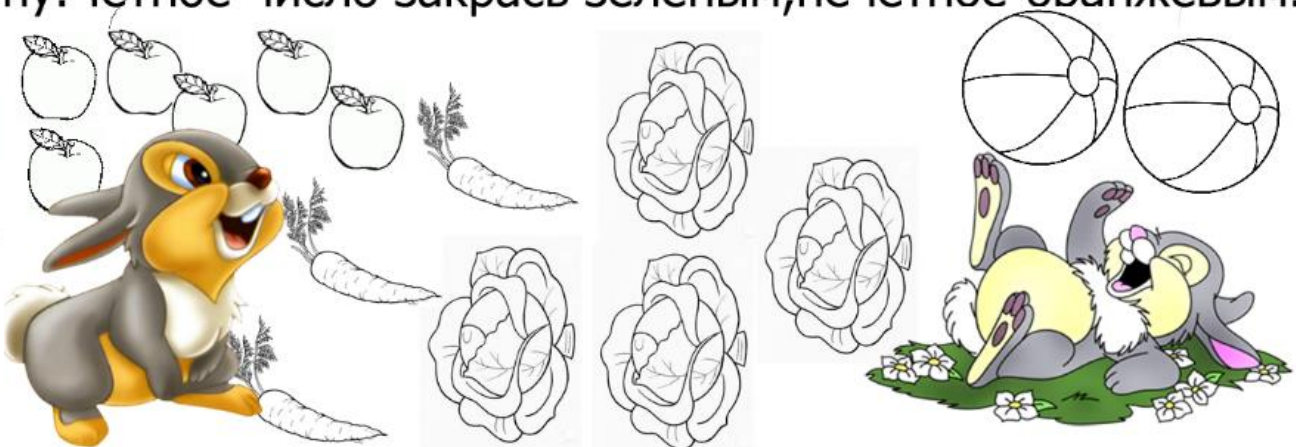


детский ЧудоЮдо портал

Выполни цепочку действий и напиши в квадратах правильные ответы, раскрась их нужным цветом.


-5	<input type="text" value="5"/>	$\xrightarrow{-3}$	<input type="text"/>	$\xrightarrow{+2}$	<input type="text"/>	8-
4-	$\uparrow -2$					-9
-2	<input type="text"/>	$\xleftarrow{-2}$	<input type="text"/>	$\xleftarrow{+1}$	<input type="text"/>	7-

Раздели между зайками предметы, какие можно, поровну. Чётное число закрась зелёным, нечетное-оранжевым.



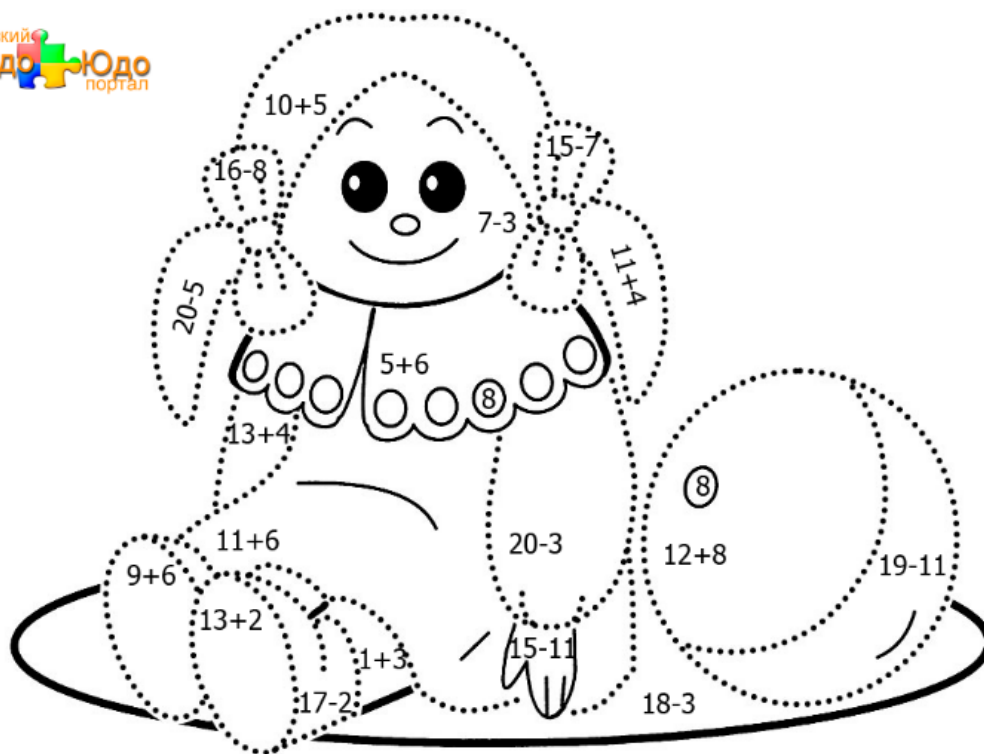
Обведи картинки по точкам и раскрась их с помощью приведенных примеров.

детский
ЧудоЮдо
портал



- 10 -
- 12 -
- 7 -
- 9 -
- 16 -
- 6 -
- 18 -

детский
ЧудоЮдо
портал



- 4 -
- 20 -
- 15 -
- 8 -
- 11 -
- 17 -






Реши пример, который написан на доске и скажи, кто из детей сделал девочке правильную подсказку.

детский
ЧУДО ЮДО
портал



Сосчитай и запиши количество предметов в таблицу.

детский
ЧУДО ЮДО
портал

Реши примеры и ты узнаешь, кто в каком домике живет. Кто находится дома, а кто в гостях?

детский
ЧудоЮдо
портал



$$5 + 3 =$$



$$6 - 2 =$$

детский
ЧудоЮдо
портал



$$3 + 7 =$$

$$10 - 4 =$$



$$9 - 4 =$$



$$2 + 5 =$$



$$6 + 3 =$$

Чтобы узнать, кто из героев едет без билета, нужно решить примеры расположенные под вагончиками (наибольшее число-ответ укажет вам на него).

детский
ЧудоЮдо
портал



$$7 + 2 =$$



$$3 + 2 =$$



$$5 - 5 =$$



$$4 + 3 =$$



$$8 - 4 =$$



$$3 + 3 =$$



$$9 - 8 =$$

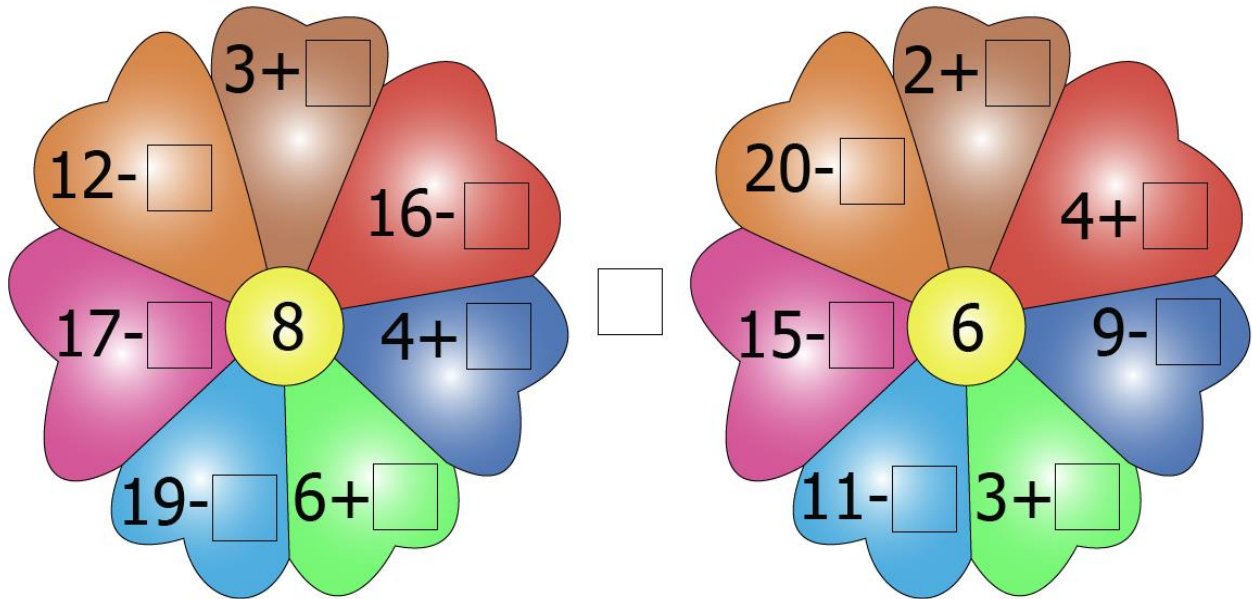


$$10 - 2 =$$


Вставь в лепестки недостающие числа.
Какой математический знак ты поставишь
между цветочками?

детский
ЧудоЮдо
портал



детский
ЧудоЮдо
портал



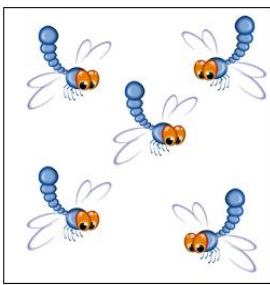
Нарисуй на веточках столько ягод, сколько указывает цифра. Сколько ягод нет на ветках?




Подбери к каждой картинке подходящую цифру. Придумай примеры к каждой картинке. Какая цифра лишняя?




Посчитай предметы, запиши в квадратиках под картинками их количество и подходящие математические знаки.








=
>
<










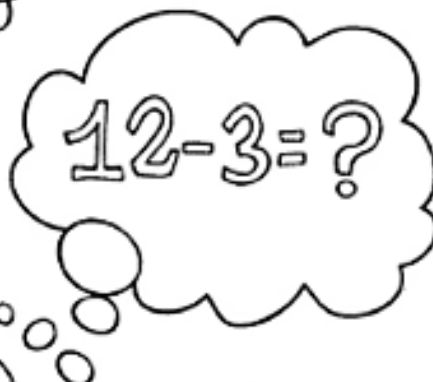




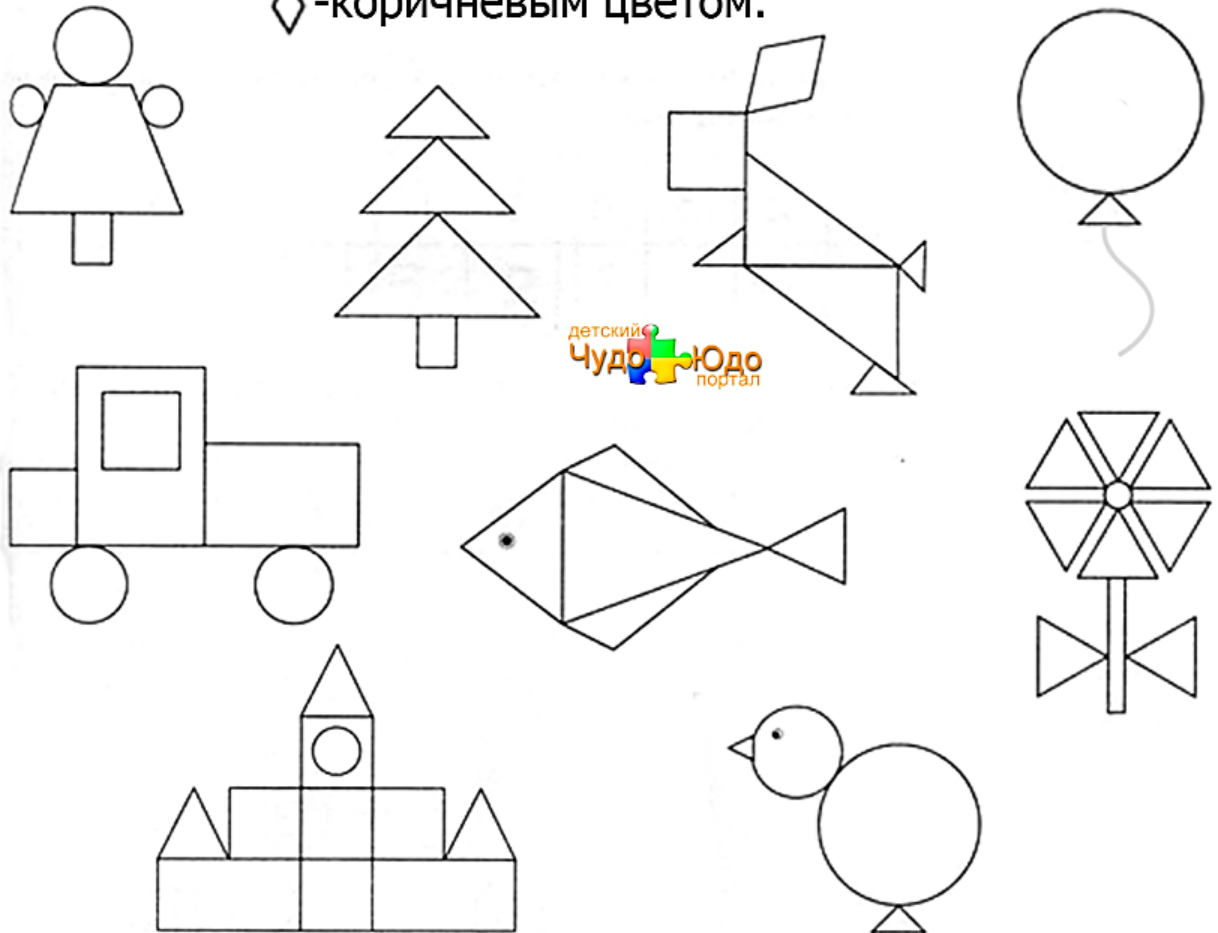
детский ЧудоЮдо портал

Какую бабочку нужно поймать мишке, чтобы решить правильно пример? Раскрась картинку.

детский
ЧудоЮдо
портал



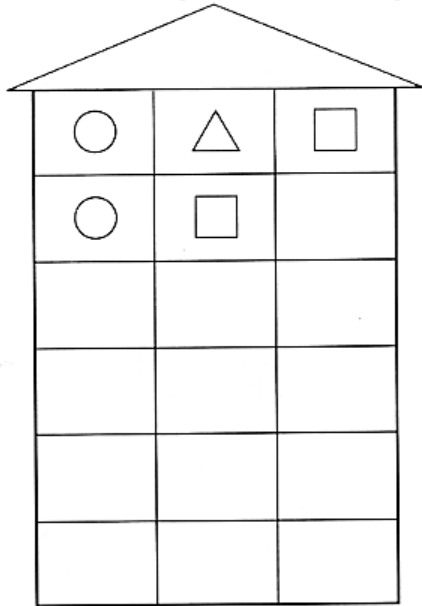
Посмотри внимательно на картинки. Какие геометрические фигуры ты видишь? Раскрась каждую фигуру таким образом: ○-жёлтым, □-синим, ▭-красным, △-зелёным, ▤-оранжевым, ◇-коричневым цветом.



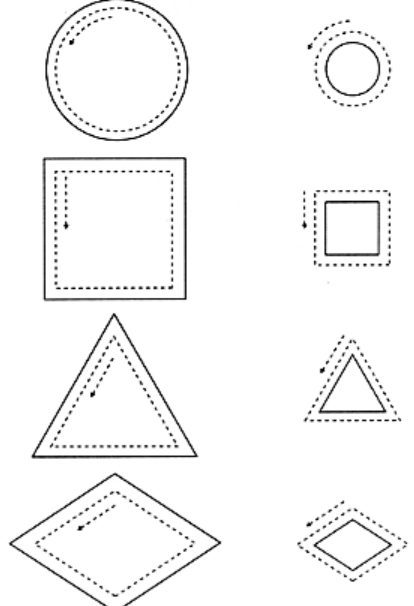
детский
ЧудоЮдо
портал

Размести фигуры в домике так, чтобы на каждом этаже они находились в разном порядке.

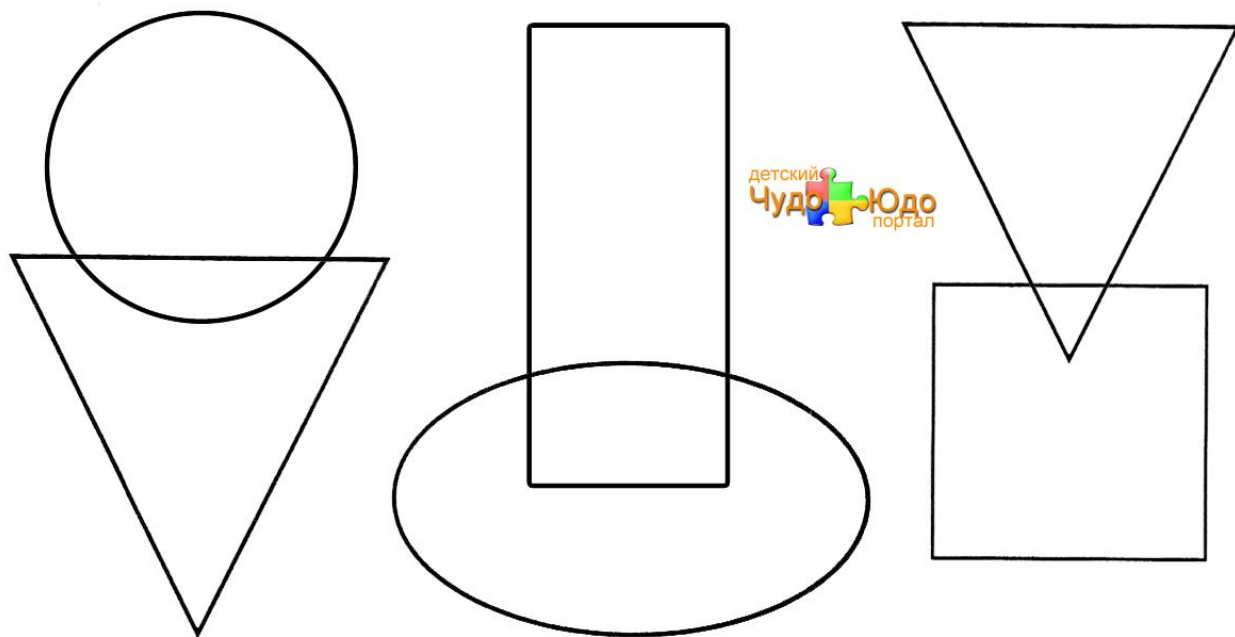
Нарисуй внутри больших фигур уменьшающиеся, а вокруг маленьких-увеличивающиеся.




детский
ЧудоЮдо
портал



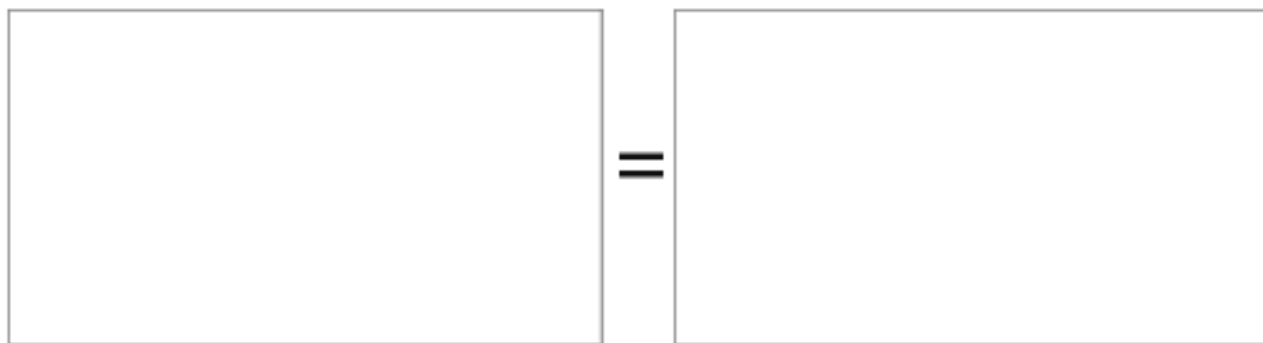

Раскрась фигуры так, чтобы круг находился на треугольнике, прямоугольник оказался под овалом, а квадрат накрыл угол треугольника.



Дорисуй геометрические фигуры и назови их.



Назови фигуры, которые ты видишь. Размести их в рамки так, чтобы получились одинаковые наборы.




Какие знакомые геометрические фигуры ты видишь в этих предметах? Назови их.




Нарисуй фигуры в таблицах так, чтобы все знаки были расставлены верно.



<



>



=



≠



На полянке белочки нашли орешки и решили поделить их поровну. Когда начали делить, оказалось, что если каждая возьмет по три ореха, то один останется лишним, а если по четыре - одного не хватит. Сколько орехов нашли белочки?

детский
Чудо Юдо
портал

детский
Чудо Юдо
портал



На полянке курочка снесла яички. Посмотри внимательно на картинку и подумай: сколько яиц было всего?

детский
Чудо Юдо
портал

