

2

3

7

Состав числа

от 1 до 10

6

4



1 2 3 4 5

6 7 8 9 10

Шары

Где на ярмарке услышишь
Смех и крики детворы?
Это там, где продаются
Разноцветные шары!

Самый я счастливый в мире, –
У меня шаров... (четыре).
Если в двух руках держать.
Напиши, как можно взять.

- Сколько шаров у мальчика?
- Сколько шаров у него останется, если один шар он переложит в другую руку? Найди в «домике» подходящую запись.
- Как по-другому можно взять эти шары в обе руки? Нарисуй. Найди запись в домике.

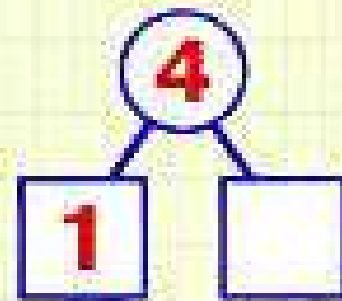
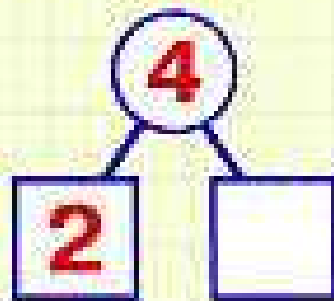


4	
4	0
3	1
2	2
1	3

3 4 5

Котята

Посчитай котят и отметь числами, сколько их всего и сколько с разными приметками. Котята отличаются по цвету шерсти: серых – два, а рыжих – ... (тоже два). У котят бантики разного цвета. С голубым бантиком – один котёнок, а с розовыми бантиками – ... (три).



Девочки и мальчики

Сколько здесь детей? (Пятеро.) Сколько из них девочек? (Три.) А сколько мальчиков? (Два.) Напиши ответ в клеточке. Сравни мальчиков и девочек по росту. Высоких – .. (один). А низких – ... (Все остальные – четверо.)



Капуста

Раз коза по кличке Зина
Шла домой из магазина
И несла из магазина
Кочаны в больших корзинах.

Их не трудно сосчитать:
Кочанов капусты... (пять).
Сколько в каждую корзину
Кочанов сложила Зина?



- Сколько кочанов капусты несла Зина из магазина? Сосчитай на картинке.
- Сосчитай кочаны в двух верхних корзинах и найди запись в «домике». Нарисуй свой вариант в пустых корзинах.
- Как ещё эти пять кочанов можно распределить по двум корзинам?



5	
5	0
4	1
3	2
2	3
1	4

Орехи

С дерева мартышка Луча
Нарвала орехов кучу.
Все орехи трудно съесть, —
У неё осталось... (шесть).

Положила обезьяна
Те орехи в 2 кармана.
Как их можно разложить, —
Ты в «окошках» напиши.



Помоги
мне разложить орешки
по двум кармашкам. Напиши
в «домиках», как это можно
сделать.

6	
6	
5	
4	
3	
2	
1	



Листочки

Сравни листочки по размеру, форме и цвету. Сколько листочков всего? (Шесть.) Сколько больших? (Два.) Сколько маленьких? (Четыре.) Напиши ответ в клеточке. Сравни количество листочков по цвету. Сравни по форме. Напиши ответы.



6

2


6

6

3

Флажки

Сравни флажки по цвету, форме и размещению. Сколько флажков всего? Сколько синих, сколько красных? Сколько прямоугольных, сколько с вырезанным углом? Сколько смотрит вправо, сколько влево?



7

3

7

6

7

4

Посуда

Зайка маме помогает –
Чашки моет, вытирает.
Чашки высохли совсем,
На столе их ровно... (семь),

Но на полке всем не встать, –
Надо на две расставлять!
Расставляй-ка их скорей.
Осторожно! Не разбей!



Подскажи,
как можно расставить
чашки по двум полочкам.
Нарисуй. Напиши варианты
в «домике».

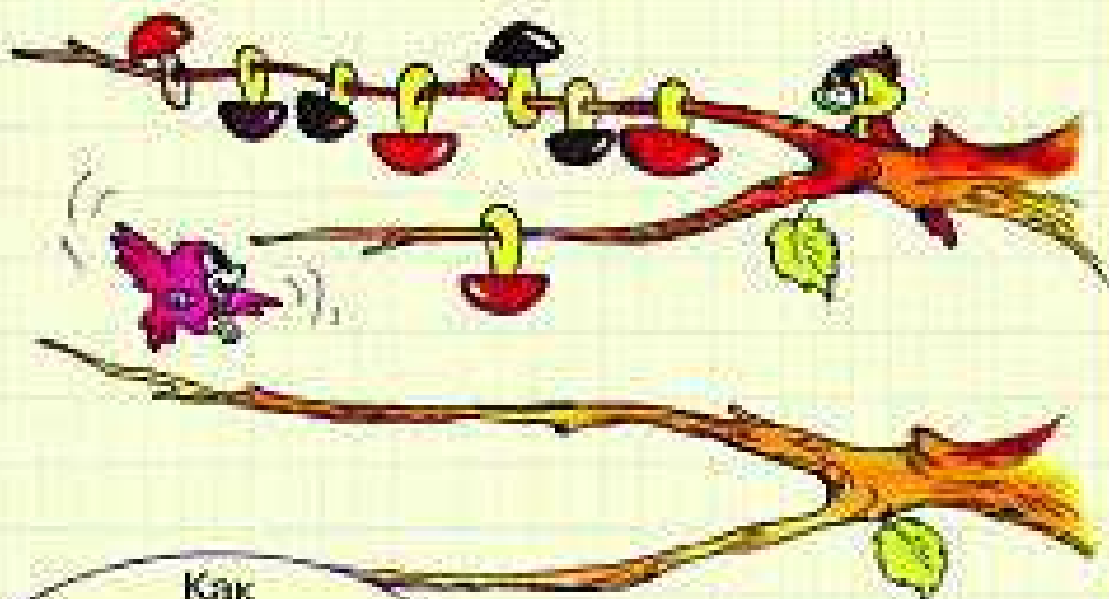


7	
7	
6	
5	
4	
3	
2	
1	

Грибы

Белка Марфа вся в трудах:
 На пороге осень, –
 Надо посушить грибов,
 Их у белки... (восемь),
 Но проблема есть одна,
 Белка огорчается:

– Все грибы на суку один
 Никак не помещаются!
 Рано, белка, слезы лить,
 Мы тебе поможем
 И грибы на двух ветвях
 Быстро расположим!



8	
8	
7	
6	
5	
4	
3	
2	
1	

Как бы мне развесить восемь грибов на двух веточках? Нарисуй. Напиши ответ в «домике».



Пуговицы

Сравни количество пуговиц, различающихся по разным признакам: по цвету (красные – жёлтые); по размеру (большие – маленькие); по количеству дырочек, по форме (круглые – овальные).




Illustration showing various buttons and a spool of thread. The buttons are arranged in four groups, each with a number in a circle above two boxes for comparison.

8		8		8		8	
3		4		6		7	

Кружки

Сравни количество кружек, различающихся по цвету, по форме, по положению ручки, по узору.


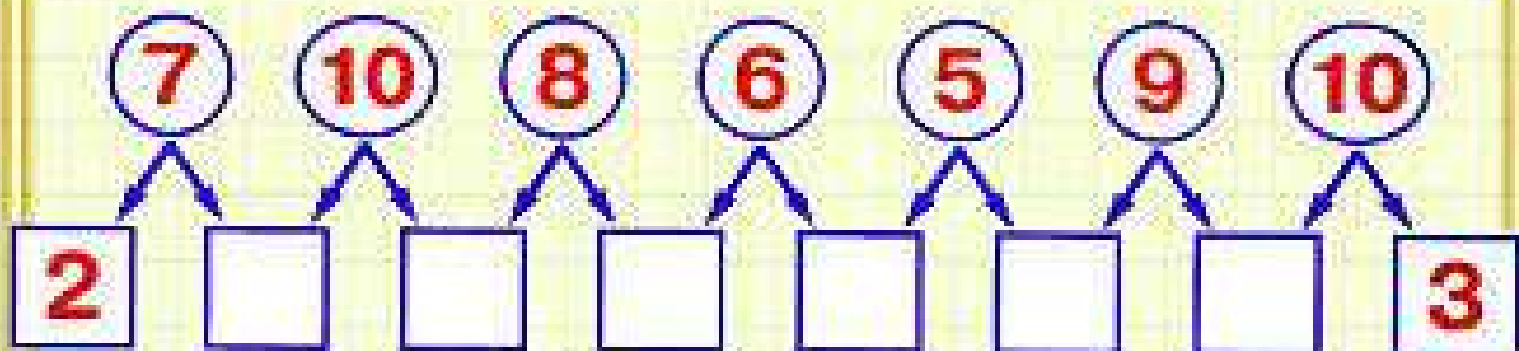
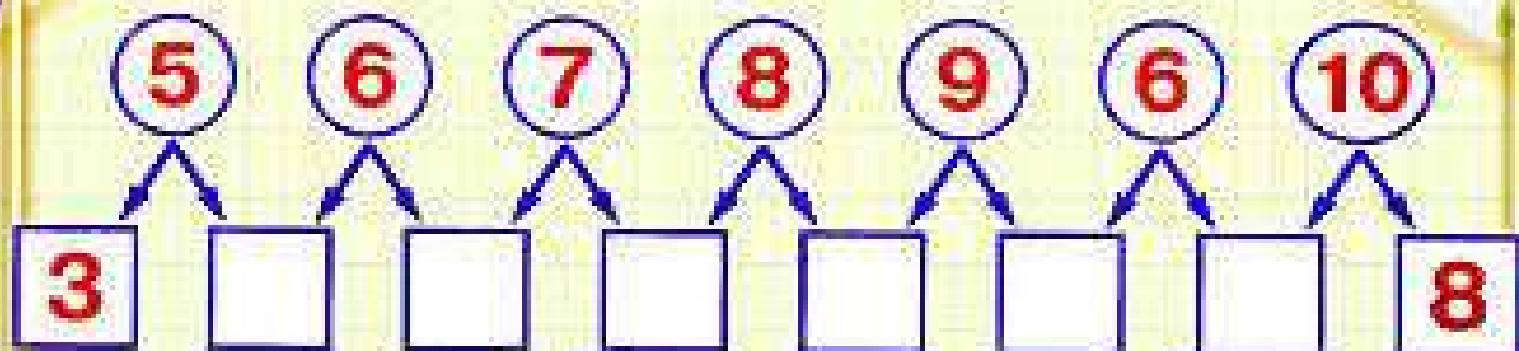


Illustration showing a tea set with a witch and a rabbit. The cups are arranged in four groups, each with a number in a circle above two boxes for comparison.

9		9		9		9	
2		4		6		1	

Цепочки

Вставь в пустые клеточки нужные числа, которые являются составом чисел в кругах.



Шарики


Обведи в каждом шарике те 2 числа, которые представляют собой состав числа на карточке, привязанной к шарiku.



Рыбка

На рыбалке был вчера.
Взял с собою два ведра.
Клёв отличный, можешь верить.

Наловил рыб ровно... (девять).
Ты поможешь мне решить:
Как их в ведра разложить?



Нарисуй,
как можно
разместить девять
рыбок в двух
ведрах.



9	
9	
8	
7	
6	
5	
4	
3	
2	
1	

Стирка

Вот енотиха Маринка.
У неё большая стирка.
Стирка начата с утра,
А теперь сушить пора.

На верёвках двух развесить
Нужно нам платочков... (десять).
Помогай скорее Маринке, –
Ей ещё стирать простынки!

10	
10	0
9	
8	
7	
6	
5	
4	
3	
2	
1	




Как мне лучше развесить платочки на двух верёвочках?



Рыбки

Сравни количество рыбок, различающихся по цвету туловища, по размеру, по цвету хвоста и плавников, по форме, по направлению движения.



10

5

10

2

10

7

10

4

10

9